

VL5

jméno:


datum:

Na model Země správně umísti (zakresli pastelkou a popiš):

rovník

severní pól

poledník




Na model Země správně umísti podnebné pásy:

polární pás

tropický pás

mírný pás



Čím je ovlivněno podnebí:

1.

2.

3.

Napiš rozdíl mezi počasím a podnebí:

počasí

podnebí

se stoupající nadmořskou výškou se teplota

se zvětšující se vzdáleností od rovníku se teplota

se zvětšující se vzdáleností od oceánu se výkyvy teplot

Doplň do mapy:

Alpy

Pyreneje

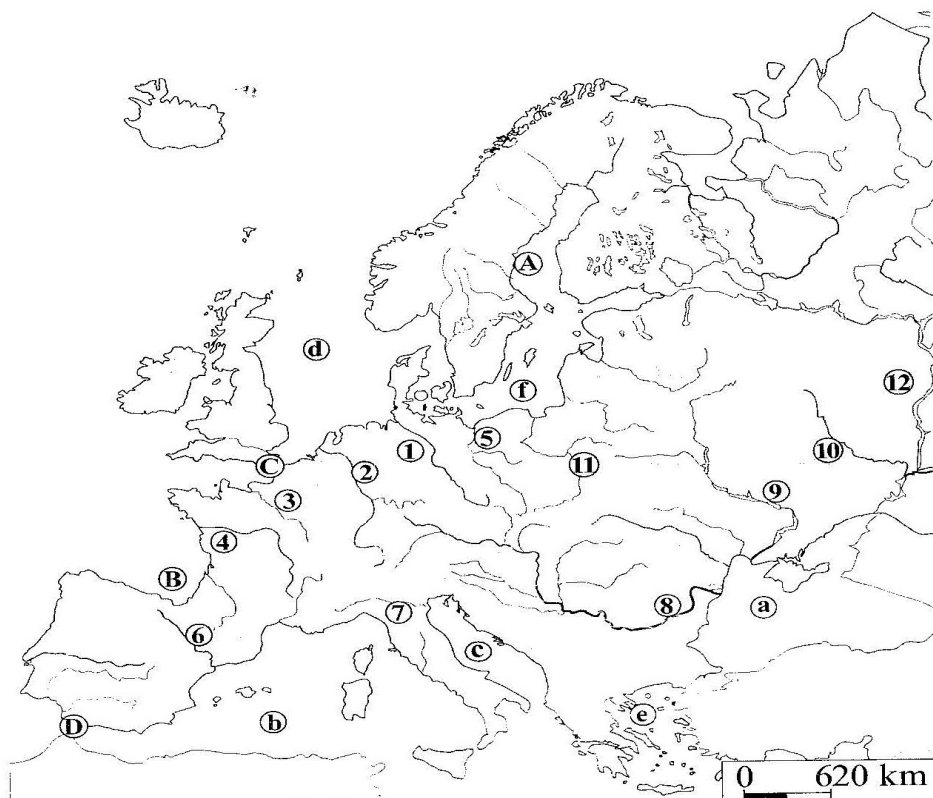
Pyrenejský poloostrov

Skandinávský poloostrov

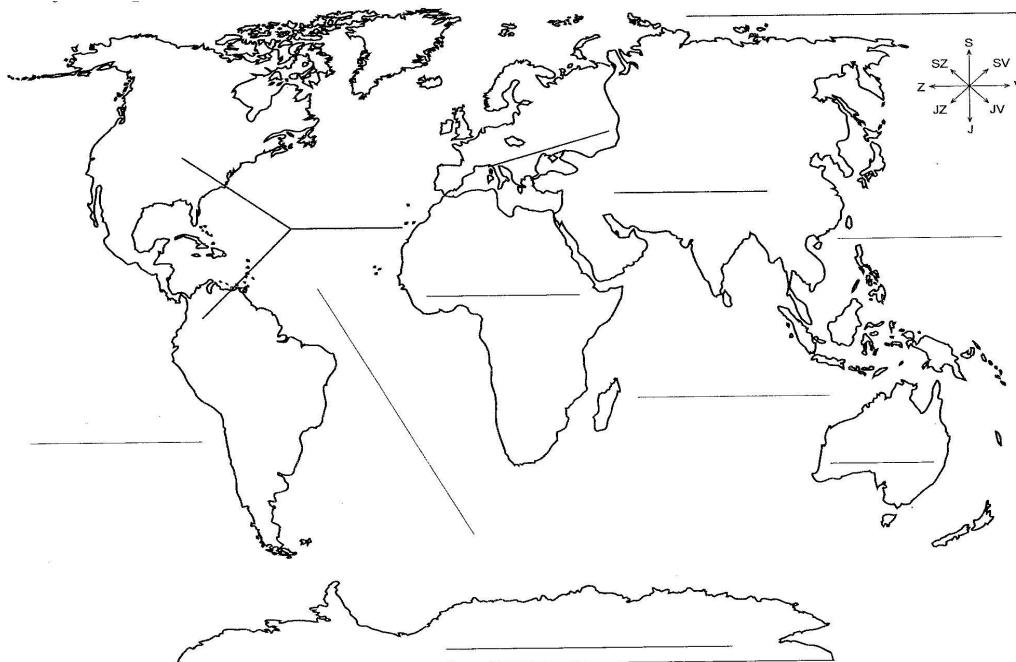
Středozemní moře

Baltské moře

Severní moře



Doplň do mapy názvy světadílů a oceánů:



Jan Lucemburský

kdo to byl
z jakého byl rodu
čím je významný

Karel IV.

kdo to byl
z jakého rodu byl po matce
čím je významný
jak se mu říká
v jakém žil století
co nechal vybudovat
co založil

Jan Hus

kdo to byl
jak a proč zemřel
kdy zemřel
vysvětlí slovo „kacíř“

Husité

kdo to byl
po kom se jmenovali
co měli ve znaku