

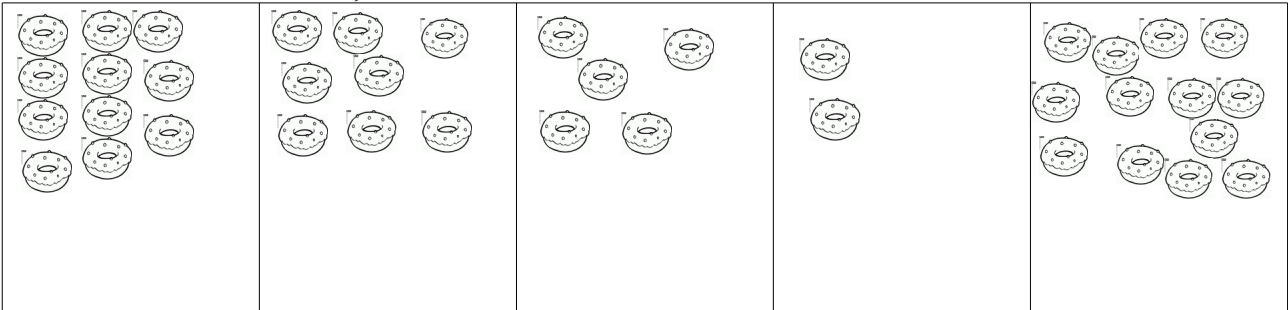
## MASOPUSTNÍ POČÍTÁNÍ

KOLIK KOBLÍŽKŮ VIDÍŠ NA OBRÁZKU? \_\_\_\_\_



KONÍK SNĚDL 2 KOBLIHY, BÁBA 4 A MEDVĚD 5. KOLIK KOBLIH SNĚDLI  
SPOLEČNĚ? \_\_\_\_\_

KOLIK KOBLIH ZBYLO? \_\_\_\_\_

DOMALUJ KOBLIHY, ABY JICH BYLO VŽDY 16.



DOLPŇ ZNAMÉNKA.



VYPOČÍTEJ.

$10 + 6 =$

$11 + 5 =$

$4 + 5 =$

$6 + 7 =$

$4 + 7 =$

$8 + 8 =$

$12 - 2 =$

$16 - 6 =$

$16 - 5 =$

$16 - 8 =$

$14 - 5 =$

$10 - 4 =$