

VL5

jméno:

datum:

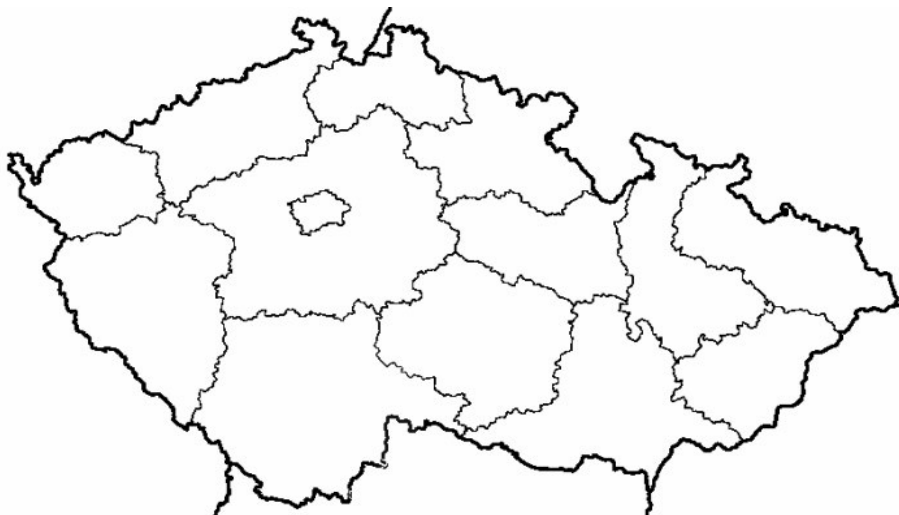
Vybarvi a pojmenuj krajské město:

červeně – Ústecký kraj

modře – Liberecký kraj

zeleně – Královéhradecký kraj

žlutě – Karlovarský kraj



Vyznač do mapy státy sousedící s Českou republikou.

Napiš krajská města:

Jihočeský kraj -.....

Jihomoravský kraj -.....

Středočeský kraj -.....

kraj Vysočina -.....

Plzeňský kraj -

Vyjmenuj tři největší města České republiky a napiš, v kterém leží kraji:

..... -

..... -

..... -

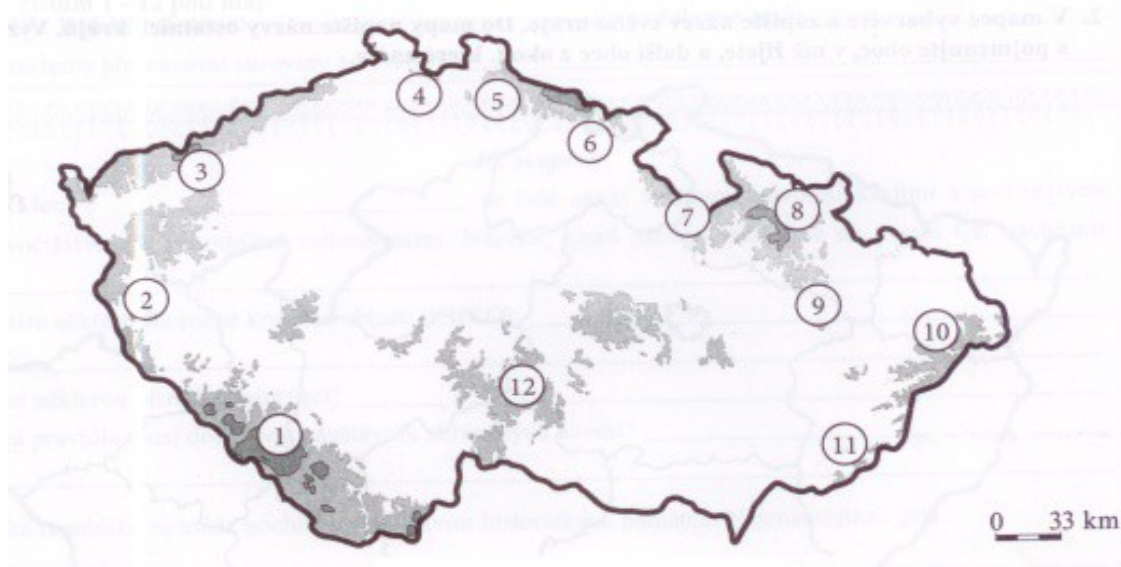
Ve kterém městě se stéká Labe s Vltavou?

Která řeka protéká Prahou?

V kterém pohoří pramení Vltava?

V kterém pohoří pramení Labe?

Napiš názvy pohoří:



1. 7.

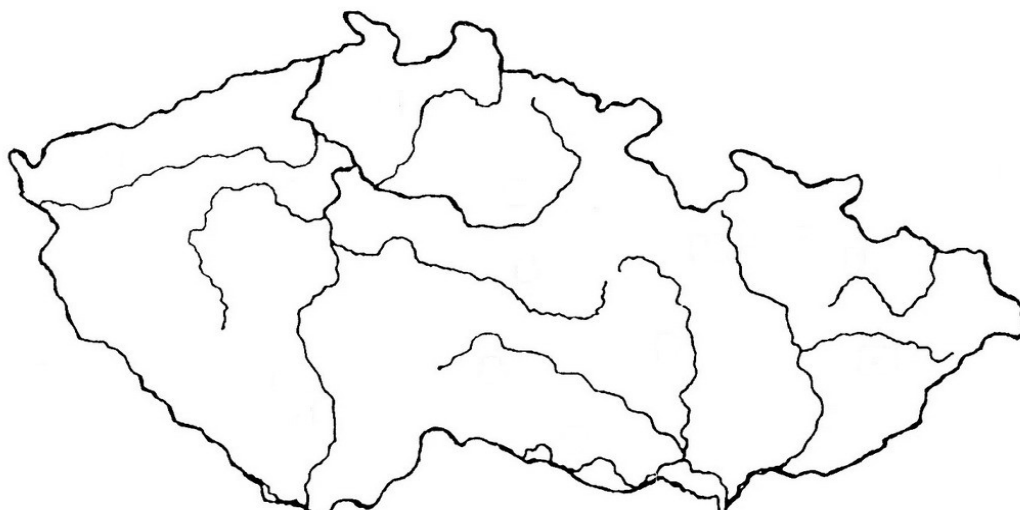
2. 8.

3. 9.

4. 10.

5. 11.

6. 12.



Vyznač do mapy (obtáhni celý tok):

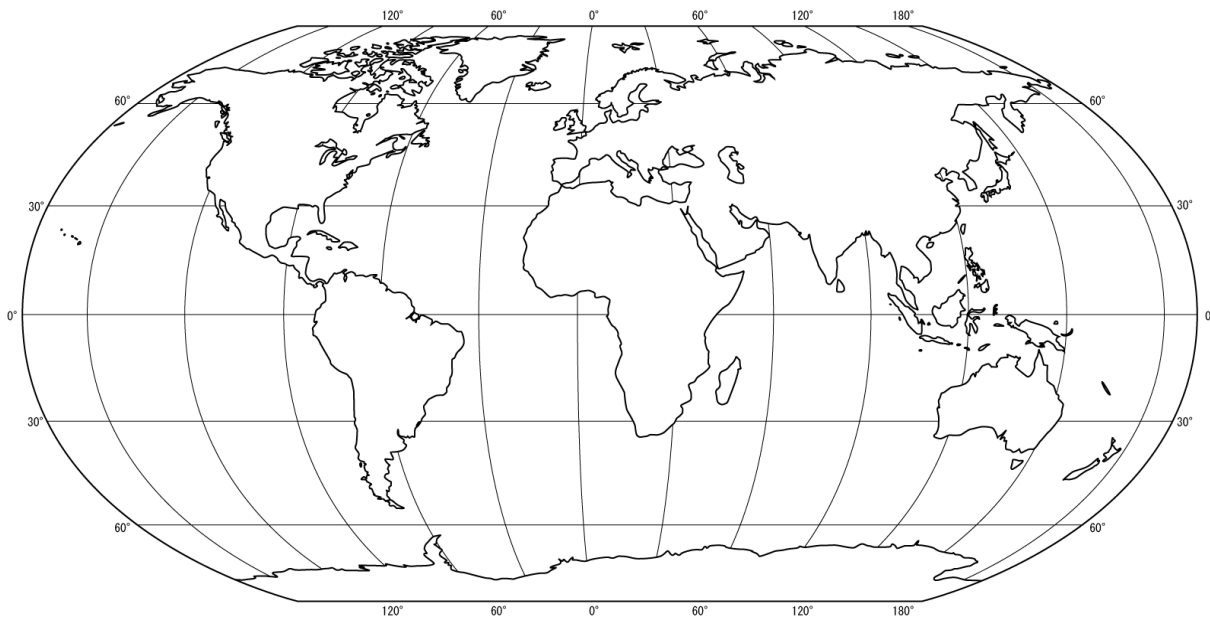
modře – Vltavu

zeleně – Labe

červeně – Moravu

Vyznač do mapy a pojmenuj tři hlavní nížiny.

Pojmenuj světadíly. Umísti Českou republiku.



Kdy vzniklo Československo (přesné datum)?.....

Z čeho vzniklo Československo?.....

Kdo byl první československý prezident?

Které období (letopočet) označujeme jako První republiku?.....

Kdo byl Tomáš Baťa?

Kdy vznikl Protektorát Čechy a Morava a jak?

.....

Kdy skončila první světová válka? Kolik let trvala?

Rozděl správně země, které proti sobě bojovaly:

Země můžeš použít opakovaně nebo naopak vůbec ne:

| | | | |
|-----------------|---------------|----------|------------------|
| Česká republika | Francie | Itálie | Japonsko |
| Německo | Polsko | Rakousko | Rakousko-Uhersko |
| Rusko | Sovětský svaz | USA | Velká Británie |

v první světové válce:

.....

.....

.....

.....

v druhé světové válce:

.....

.....

.....

Napiš hlavní znaky (dýchání, stavba těla, rozmnožování) a tři zástupce:

bezobratlí: znak -
zástupci:

obratlovci: znak -
zástupci:

.....

.....

.....

.....

.....

.....

savci:

znaky -

zástupci -

plazi:

znaky -

zástupci -

ptáci:

znaky -

zástupci -

ryby:

znaky -

zástupci -

obojživelníci:

znaky -

zástupci -