

Datum: _____

Jméno: _____


POLOLETNÍ OPAKOVÁNÍ Z PRVOUKY – LEDEN 2017

1. Jak se jmenuje hlavní město České republiky? (1b)

2. Jak se jmenuje nejvyšší hora ČR a v jakém pohoří se nachází? (2b)

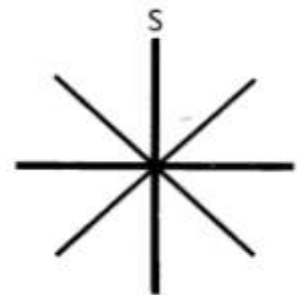
3. Česká republika je rozdělena na kraje. Jak se jmenuje náš kraj? (1b)

4. Vybarvi správně českou vlajku. (3b)




5. Jak se jmenuje chráněná krajinná oblast (CHKO) v našem blízkém okolí? (2b)

6. Doplně do směrové růžice jednotlivé světové strany: (7b)



7. Napiš, co znamenají jednotlivé mapové značky: (6b)



1. _____

4. _____

2. _____

5. _____

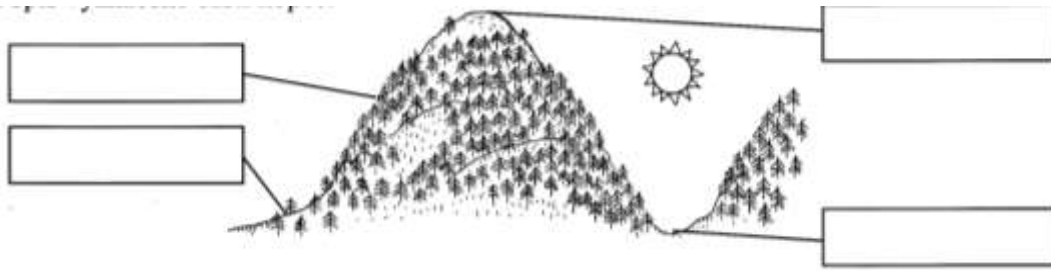
3. _____

6. _____

Datum: _____

Jméno: _____

8. Popiš vyznačené části kopce: (4b)



9. Pojmenuj části stromu: (7b)

K ___ Ř ___ _ _

V ___ _ E ___

K ___ _ _

K ___ _ _

K ___ _ U ___ _

L ___ _ _

P ___ _ _

10. Zakroužkuj plody, kterým říkáme peckovice: (3b)

JABLKO

TŘEŠEŇ

ANGREŠT

HRUŠKA

ŠVESTKA

MERUŇKA

11. Pojmenuj houby: (5b)



8. Zakroužkuj ptáky, kteří na zimu odlétají do teplých krajín: (3b)

ČÁP

VRABEC

STRAKA

JÍŘIČKA

SÝKORA

ČERVENKA

VÝR

9. Zakroužkuj savce, kteří upadají do zimního spánku: (6b)

ZAJÍC

JEZEVEC

VLK

JEŽEK

RYS

JELEN

PLCH

MEDVĚD

LIŠKA

VEVERKA

NETOPÝR

KANEC

MUFLON

KUNA

KŘEČEK