




ÚKOL: HOĎ KOSTKOU, POČET ZAPIŠ A
K DANÉMU HODU PŘIČTI (+) ČÍSLO 5,
ZAPIŠ VÝSLEDEK





+5


1. +  =


2. +  =


3. +  =


4. +  =


5. +  =


6. +  =


7. +  =


8.  + =


9.  + =

10.  + =

11.  + =

12.  + =

13.  + =

14.  + =

ÚKOL: ZAKROUŽKUJ BAREVNĚ VŠECHNY
DVOJICE ČÍSEL, KTERÉ TI DAJÍ SOUČET 8.

8

| | | | | | | | |
|---|---|---|---|---|---|---|---|
| 6 | 5 | 8 | 7 | 5 | 2 | 4 | 2 |
| 2 | 0 | 3 | 5 | 1 | 6 | 7 | 1 |
| 4 | 0 | 6 | 4 | 4 | 0 | 6 | 4 |
| 2 | 1 | 5 | 6 | 8 | 7 | 5 | 8 |
| 8 | 0 | 7 | 4 | 5 | 3 | 6 | 7 |
| 4 | 7 | 2 | 0 | 6 | 0 | 1 | 3 |
| 0 | 4 | 6 | 3 | 2 | 3 | 4 | 4 |
| 8 | 5 | 3 | 7 | 4 | 1 | 3 | 2 |
| 1 | 8 | 7 | 6 | 1 | 8 | 6 | 4 |